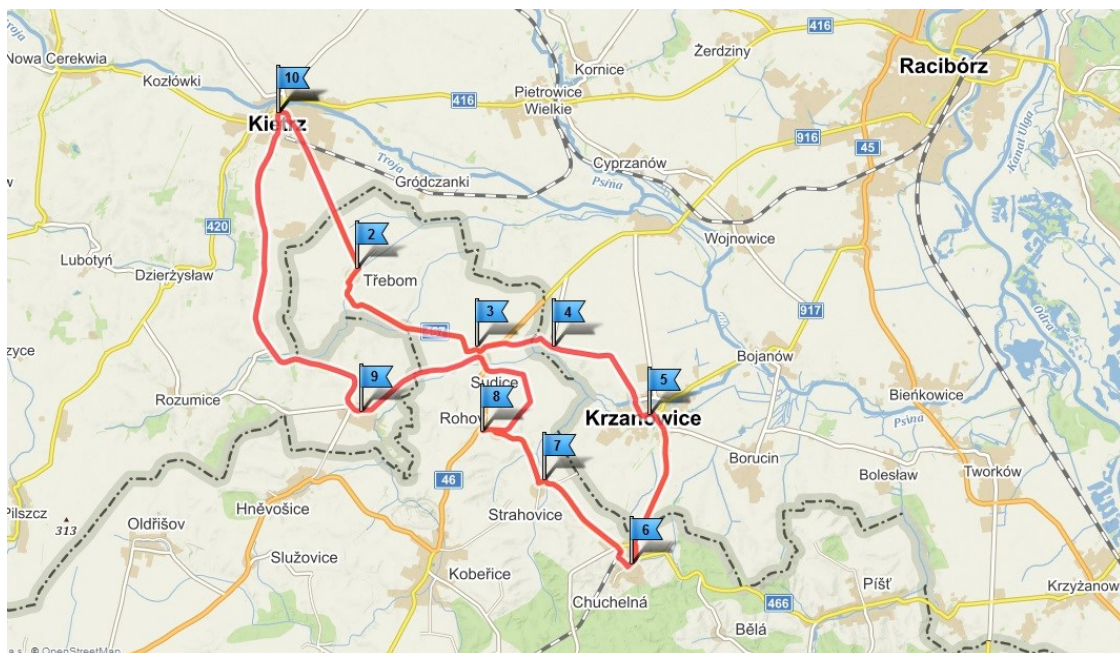


## ARKUSZ DO TRASY NR 1



**Kietrz → Třebom → Sudice → Pietraszyn → Krzanowice → Chuchelná → Strahovice  
→ Rohov → Ściborzyce Wielkie → Kietrz**

**Délka trasy: 39.1 km**

UCZESTNIK/CZKA (Imię i nazwisko)

.....

KONTAKT (e-mail, numer telefonu, adres)

.....

**ODPOWIEDZ NA PYTANIA**

**ORAZ SFOTOGRAFUJ SIĘ W NIŻEJ PODANYCH MIEJSCACH!**

## Pytania konkursowe i miejsca na trasie nr 1

**1. Kietrz**                      **Kościół klasztorny**                      **Współrzędne: N 50°5.04600', E 18°0.97440'**

Pytanie:                      Kto jest patronem kościoła?

.....

**2. Třebom**                      **Kościół**                      **Współrzędne: N 50°2.86412', E 18°1.60725'**

Pytanie:                      Komu poświęcono kościół w miejscowości Třebom?

.....

**3. Sudice**                      **Kościół św. Jana Chrzciciela**                      **Współrzędne: N 50°2.01678', E 18°4.05278'**

Pytanie:                      Z imieniem którego słynnego kravařskiego architekta jest związana budowa kościoła św. Jana Chrzciciela w miejscowości Sudice?

.....

**4. Pietraszyn**                      **Kaplica świętej Barbary**                      **Współrzędne: N 50°2.00420', E 18°5.40665'**

Pytanie:                      Z którego roku pochodzi kaplica św. Barbary w Pietraszynie i przez kogo została ufundowana jej budowa?

.....

**5. Krzanowice Kolumna Maryjna**                      **Współrzędne: N 50°1.06792', E 18°7.30440'**

Pytanie:                      Z którego roku oraz jakiego stylu architektonicznego jest stojąca na środku rynku kolumna?

.....

**6. Chuchelná**                      **Mauzoleum w Chuchelnej**                      **Współrzędne: N 49°59.21867', E 18°7.11847'**

Pytanie:                      W którym roku wybudowano mauzoleum w miejscowości Chuchelná?

.....

**7. Strahovice**                      **Kościół św. Augustyna**                      **Współrzędne: N 50°0.15185', E 18°5.21560'**

Pytanie:                      W miejscowości Strachovice po raz pierwszy na terenie ziemi hulczyńskiej zorganizowano Strassenfest. W którym roku się odbył?

.....

**8. Rohov**                      **Minibrowar**                      **Współrzędne: N 50°0.91948', E 18°4.37425'**

Pytanie:                      Rohov jest znany między innymi z lokalnego browaru. Jakie piwo się w nim warzy?

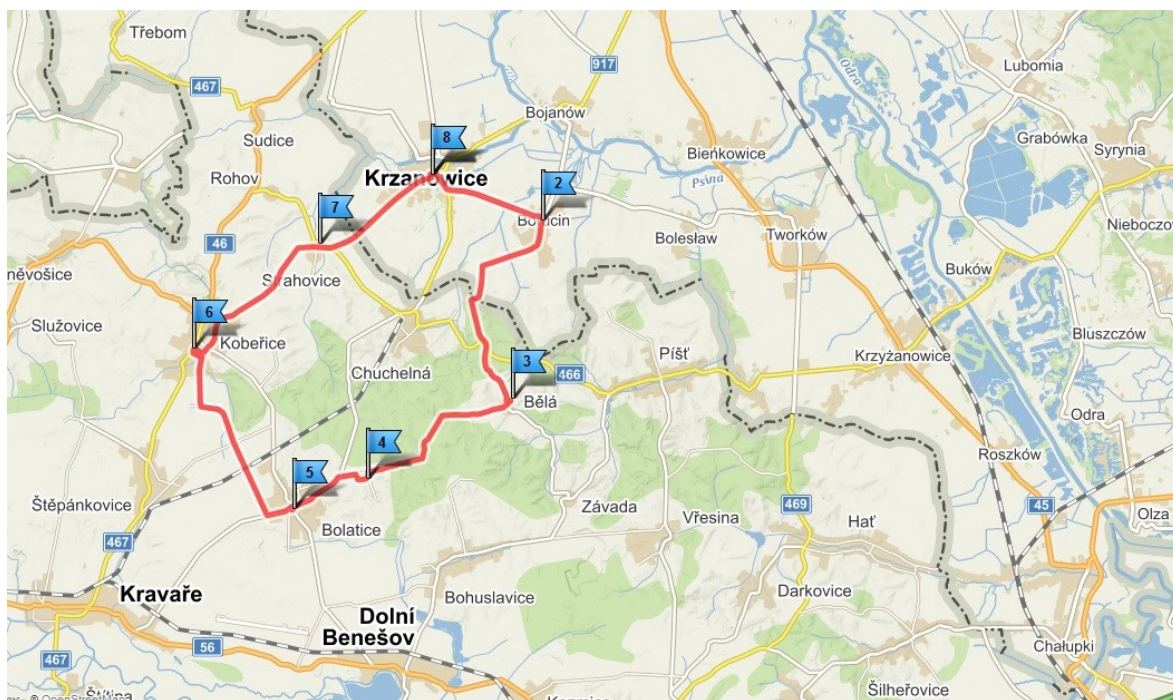
.....

**9. Ściborzyce Wielkie Kościół Ewangelicki**                      **Współrzędne: N 50°1.15680', E 18°1.90500'**

Pytanie:                      W którym roku został poświęcony kościół?

.....

## ARKUSZ DO TRASY NR 2



**Krzanowice → Borucin → Bělá → Borová → Bolatice → Kobeřice  
→ Strahovice → Krzanowice**

**długość trasy : 27,4 km**

UCZESTNIK/-CZKA (Imię i nazwisko)

.....

KONTAKT (e-mail, nr telefonu, adres)

.....

**ODPOWIEDZ NA PYTANIA**

**ORAZ SFOTOGRAFUJ SIĘ W NIŻEJ PODANYCH MIEJSCACH!**

## Pytania konkursowe i miejsca na trasie nr 2

**1. Krzanowice**  
**18°7.18900'**

**Kościół św. Wacława**

**Współrzędne: N 50°1.05343', E**

Pytanie:

Zdaniem kogo organy w kościele św. Wacława w Krzanowicach to jeden z ciekawszych instrumentów na Śląsku?

.....

**2. Borucin**  
**18°9.65232'**

**Brama wjazdowa „Szlaku Lichnowskich“**

**Współrzędne: N 50°0.69908', E**

Pytanie:

W jakim stylu została wzniesiona brama wjazdowa do dawnego dworu Lichnowskich oraz co umiejscowiono na jej szczycie?

.....

**3. Bělá**

**Lecznicze źródółko**

**Współrzędne: N 49°58.30887', E 18°9.10782'**

Pytanie:

Jak nazywa się lecznicze źródółko w miejscowości Bělá?

.....

**4. Borová**

**Dzwonnica**

**Współrzędne: N 49°57.51417', E 18°6.23623'**

Pytanie:

Ile dzwonów znajduje się na dzwonnicy w miejscowości Borová?

.....

**5. Bolatice**

**Skansen**

**Współrzędne: N 49°57.14570', E 18°5.04332'**

Pytanie:

W którym roku wybudowano skansen tradycji ludowych i rzemiosła w miejscowości Bolatice?

.....

**6. Kobeřice**  
**18°3.09065'**

**Kościół Wniebowzięcia Najświętszej Panny Marii**

**Współrzędne: N 49°59.13755', E**

Pytanie:

Jaką wysokość ma wieża kościoła Wniebowzięcia Najświętszej Marii Panny w miejscowości Kobeřice?

.....

**7. Strahovice**

**Kościół św. Augustyna**

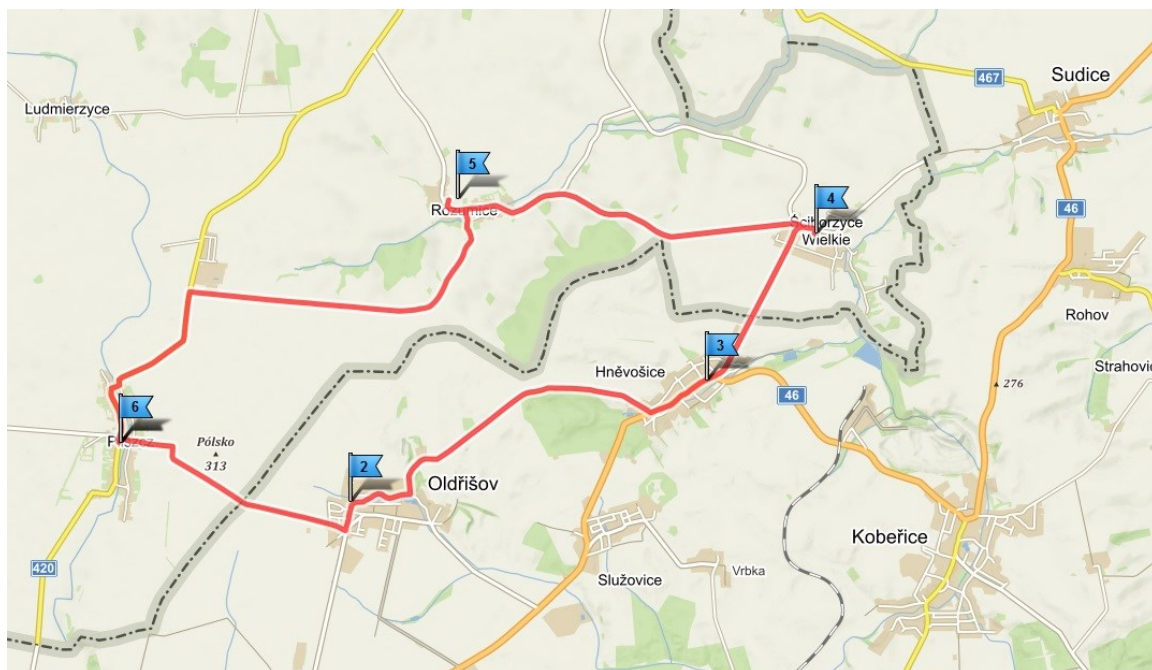
**Współrzędne: N 50°0.15185', E 18°5.21560'**

Pytanie:

W miejscowości Strachovice po raz pierwszy na terenie ziemi hulczyńskiej zorganizowano Strassenfest. W którym roku się odbył?

.....

## ARKUSZ DO TRASY NR 3



**Pilszcz → Oldřišov → Hněvošice → Šciborzyce Wielkie → Rozumice → Pilszcz**

długość trasy: 21,8 km

UCZESTNIK/-CZKA (Imię i nazwisko)

.....

KONTAKT (e-mail, nr telefonu, adres)

.....

**ODPOWIEDZ NA PYTANIA**

**ORAZ SFOTOGRAFUJ SIĘ W NIŻEJ PODANYCH MIEJSCACH!**

## Pytania konkursowe i miejsca na trasie nr 3

**1. Pilszcz                      Spichlerz                      Współrzędne: N 50°0.01800', E 17°55.08540'**

Pytanie:            Jakich materiałów użyto do budowy spichlerza?

.....

**2. Oldřišov                      Kościół                      Współrzędne: N 49°59.56592', E 17°57.93680'**

Pytanie:            Kto jest patronem kościoła w miejscowości Oldřišov?

.....

**3. Hněvošice                      Hněvošicki gaj                      Współrzędne: N 50°0.08998', E 17°58.94308'**

Pytanie:            W Hněvošickim gaju znajduje się także najwyższy punkt ziemi hulczyńskiej. Jak się ten szczyt nazywa i jaką ma wysokość?

.....

**4. Ściborzyce Wielkie                      Kościół ewangelicki                      Współrzędne: N 50°1.15680', E 18°1.90500'**

Pytanie:            Do jakiej parafii należy kościół ewangelicki?

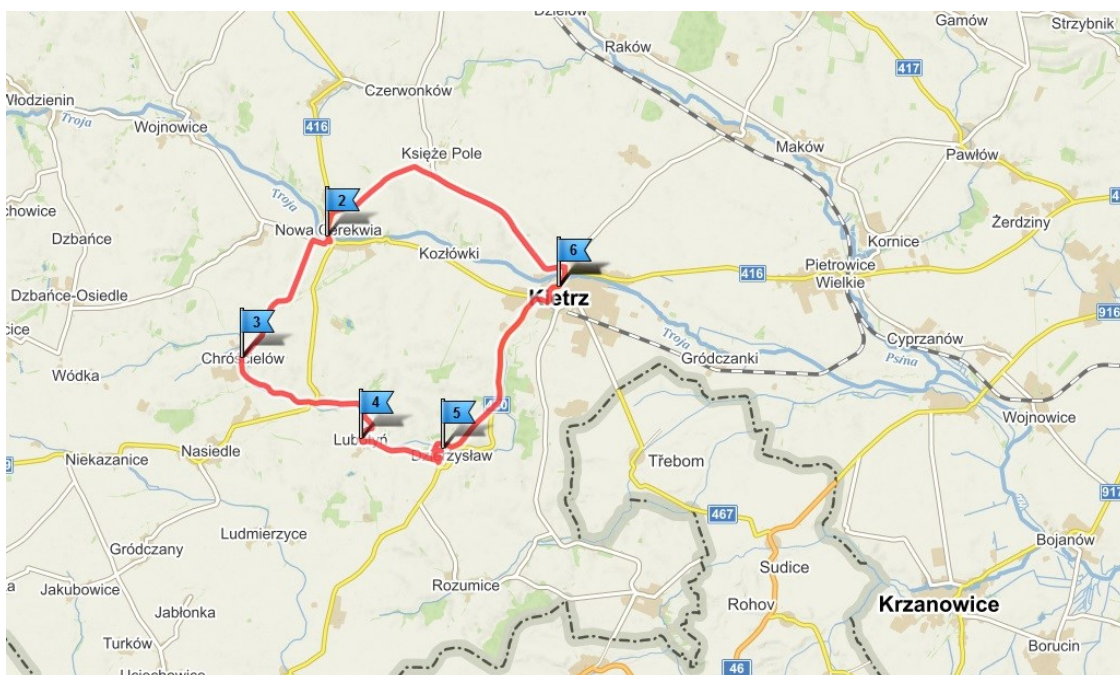
.....

**5. Rozumice                      Ruina kościoła                      Współrzędne: N 50°1.29787', E 17°58.35168'**

Pytanie:            W jakich latach zbudowano kościół?

.....

## ARKUSZ DO TRASY NR 4



**Kietrz → Nowa Cerekwia → Chróscielów → Lubotyń → Dzierżysław → Kietrz**

Długość trasy: 23,7 km

UCZESTNIK/-CZKA (Imię i nazwisko)

.....

KONTAKT (e-mail, nr telefonu, adres)

.....

**ODPOWIEDZ NA PYTANIA**

**ORAZ SFOTOGRAFUJ SIĘ W NIŻEJ PODANYCH MIEJSCACH!**

## Pytania konkursowe i miejsca na trasie nr 4

**1. Kietrz**                      **Figura św. Floriana**                      **Współrzędne: N 50°4.75860', E 18°0.13200'**

Pytanie:                      W którym wieku zbudowano zabytkową figurę św. Floriana?

.....

**2. Nowa Cerekwia**   **Wiadukt kolejowy**                      **Współrzędne: N 50°5.48340', E 17°56.85000'**

Pytanie:                      Ile przęseł ma wiadukt kolejowy?

.....

**3. Chróscielów**                      **Kaplica**                      **Współrzędne: N 50°4.06560', E 17°54.14040'**

Pytanie:                      W którym roku po raz pierwszy użyto nazwy Crostolew?

.....

**4. Lubotyń**                      **Pomnik przyrody**                      **Współrzędne: N 50°2.98620', E 17°56.61120'**

Pytanie:                      Jaką wysokość ma pomnik przyrody – lipa drobnolistna?

.....

**5. Dzierżysław**                      **Kościół**                      **Współrzędne: N 50°2.82480', E**  
**17°58.05600'**

Pytanie:                      W którym roku miała miejsce ostatnia przebudowa kościoła?

.....



## ARKUSZ DO TRASY NR 5



Krzanowice → Borucin → Bojanów → Wojnowice → Samborowice  
→ Pietraszyn → Krzanowice

Długość trasy: 19,6 km

UCZESTNIK/-CZKA (Imię i nazwisko)

.....

KONTAKT (e-mail, nr telefonu, adres)

.....

**ODPOWIEDZ NA PYTANIA**

**ORAZ SFOTOGRAFUJ SIĘ W NIŻEJ PODANYCH MIEJSCACH!**

## Pytania konkursowe i miejsca na trasie nr 5

**1. Krzanowice**      **Kościół św. Mikołaja**      **Współrzędne: N 50°1.37177', E 18°8.06953'**  
Pytanie:      Z jakiego powodu wzniesiono w 1744 r obecny kościół św. Mikołaja?

.....

**2. Borucin**      **Kościół św. Augustyna**      **Współrzędne: N 50°0.36715', E 18°9.24658'**  
Pytanie:      W którym roku wieś zaczęła zabiegać o budowę kościoła?

.....

**3. Bojanów**      **Kościół Chrystusa Króla**      **Współrzędne: N 50°1.93107', E**  
**18°9.94732'**  
Pytanie:      Kopia jakiego obrazu znajduje się na plebani i jakie wydarzenie upamiętnia?

.....

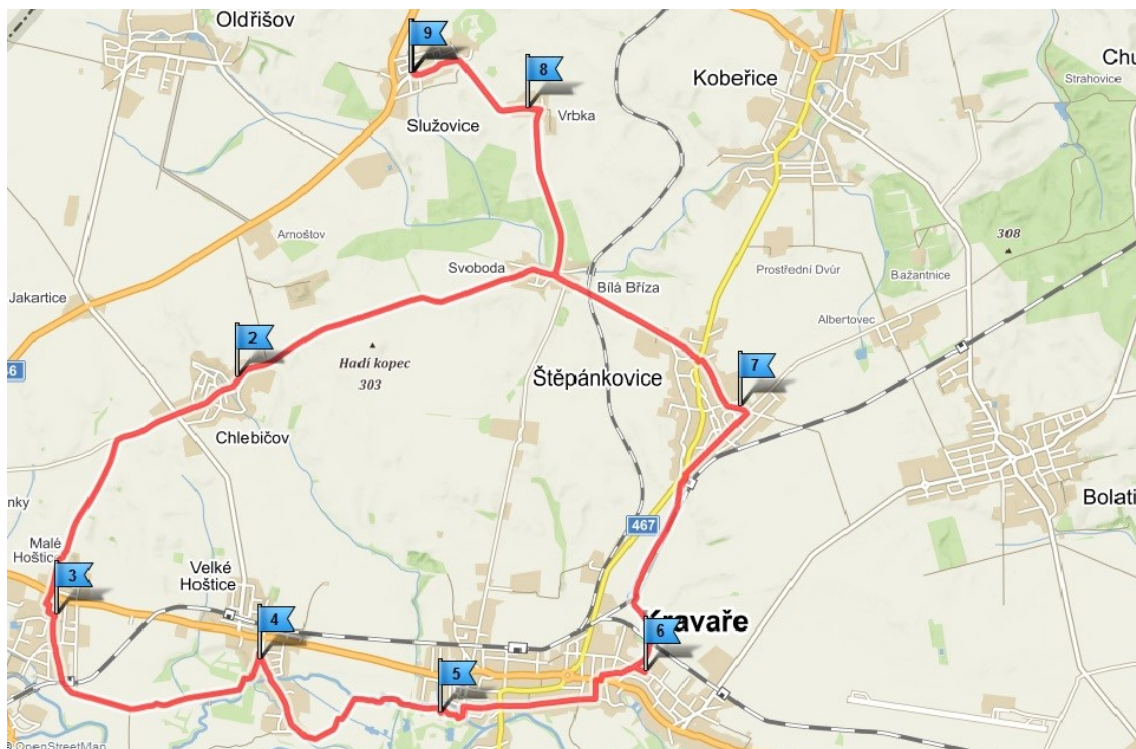
**4. Wojnowice**      **Pałac w Wojnowicach**      **Współrzędne: N 50°3.65437', E 18°9.16695'**  
Pytanie:      Kto w 1875 r przejął Pałac w Wojnowicach?

.....

**5. Pietraszyn**      **Kościół św. Barbary**      **Współrzędne: N 50°2.08808', E 18°5.55695'**  
Pytanie:      W którym roku konsekrowano kościół pw. Św. Barbary?

.....

## ARKUSZ DO TRASY NR 6



Služovice → Vrbka → Svoboda → Malé Hoštice → Velké Hoštice → Kravaře  
→ Štěpánkovice → Služovice

**Długość trasy: 28,2 km**

UCZESTNIK/-CZKA (Imię i nazwisko)

.....

KONTAKT (e-mail, nr telefonu, adres)

.....

**ODPOWIEDZ NA PYTANIA**

**ORAZ SFOTOGRAFUJ SIĘ W NIŻEJ PODANYCH MIEJSCACH!**

## Pytania konkursowe i miejsca na trasie nr 6

**1. Služovice**  
**17°59.76703'**

**Kaplica**

**Współrzędne: N 49°59.32277', E**

Pytanie: Kto jest patronem kaplicy w miejscowości Služovice?

.....

**2. Chlebičov**

**Kąpielisko**

**Współrzędne: N 49°57.42823', E 17°58.28838'**

Pytanie: Z czego wybudowano kąpielisko w miejscowości Chlebičov?

.....

**3. Malé Hoštice**

**Skansen**

**Współrzędne: N 49°56.27295', E 17°56.62112'**

Pytanie: Co w skansenie w miejscowości Malé Hoštice można zobaczyć poza tradycyjną ekspozycją ?

.....

**4. Velké Hoštice**

**Kościół św. Jana Chrzciciela**

**Współrzędne: N 49°56.03635', E**

**17°58.39845'**

Pytanie: W czym jest wyjątkowy kościół św. Jana Chrzciciela w miejscowości Velké Hoštice?

.....

**5. Kravaře**

**Zamek Kravaře**

**Współrzędne: N 49°55.74133', E 17°59.94792'**

Pytanie: Któremu alchemiście jest poświęcona jedna z ekspozycji w zamku?

.....

**7. Štěpánkovice**

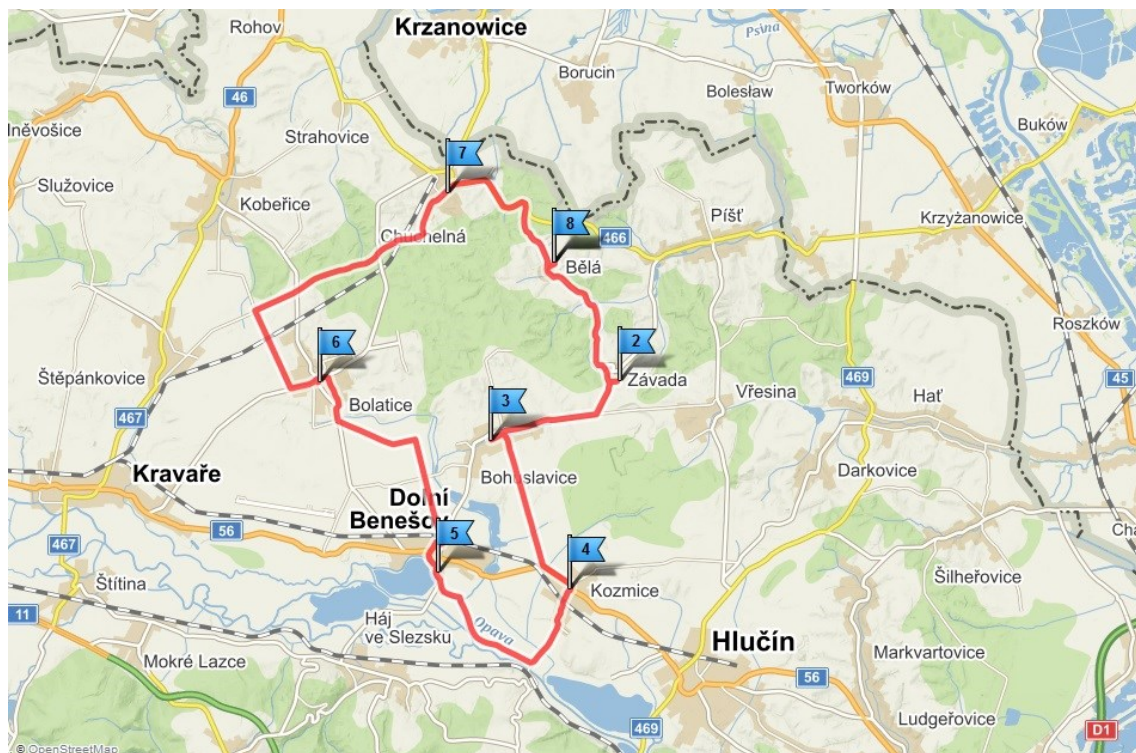
**Kościół**

**Współrzędne: N 49°57.55042', E 18°2.16298'**

Pytanie: Kto jest patronem kościoła w miejscowości Štěpánkovice?

.....

## ARKUSZ DO TRASY NR 7



Bělá → Závada → Bohuslavice → Kozmice → Dolní Benešov → Bolatice → Chuchelná → Bělá

Długość trasy: 33,7 km

UCZESTNIK/-CZKA (Imię i nazwisko)

.....

KONTAKT (e-mail, nr telefonu, adres)

.....

**ODPOWIEDZ NA PYTANIA**

**ORAZ SFOTOGRAFUJ SIĘ W NIŻEJ PODANYCH MIEJSCACH!**

## Pytania konkursowe i miejsca na trasie nr 7

**1. Bělá**                      **Labirynt**                      **Współrzędne: N 49°58.29003', E 18°9.10472'**  
Pytanie:                      Z ilu cegieł zbudowano labirynt?

.....

**2. Závada**                      **Kaplica**                      **Współrzędne: N 49°57.24918', E 18°9.82312'**  
Pytanie:                      Komu jest poświęcona kaplica w miejscowości Závada?

.....

**3. Bohuslavice**                      **Dąb Struhala**                      **Współrzędne: N 49°57.23002', E 18°7.46338'**  
Pytanie:                      Podaj wysokość i obwód pnia Dębu Struhala.

.....

**4. Kozmice**                      **Kozmické ptasie řáky**                      **Współrzędne: N 49°54.19223', E 18°8.16342'**  
Pytanie:                      Wymień conajmniej 3 gatunki ptaków, które można zobaczyć na Kozmických ptasích řákách.

.....

**5. Dolní Benešov**                      **Zamek**                      **Współrzędne: N 49°55.01098', E 18°6.93485'**  
Pytanie:                      W okolicach którego roku powstał zamek w miejscowości Dolní Benešov (na miejscu starej twierdzy)?

.....

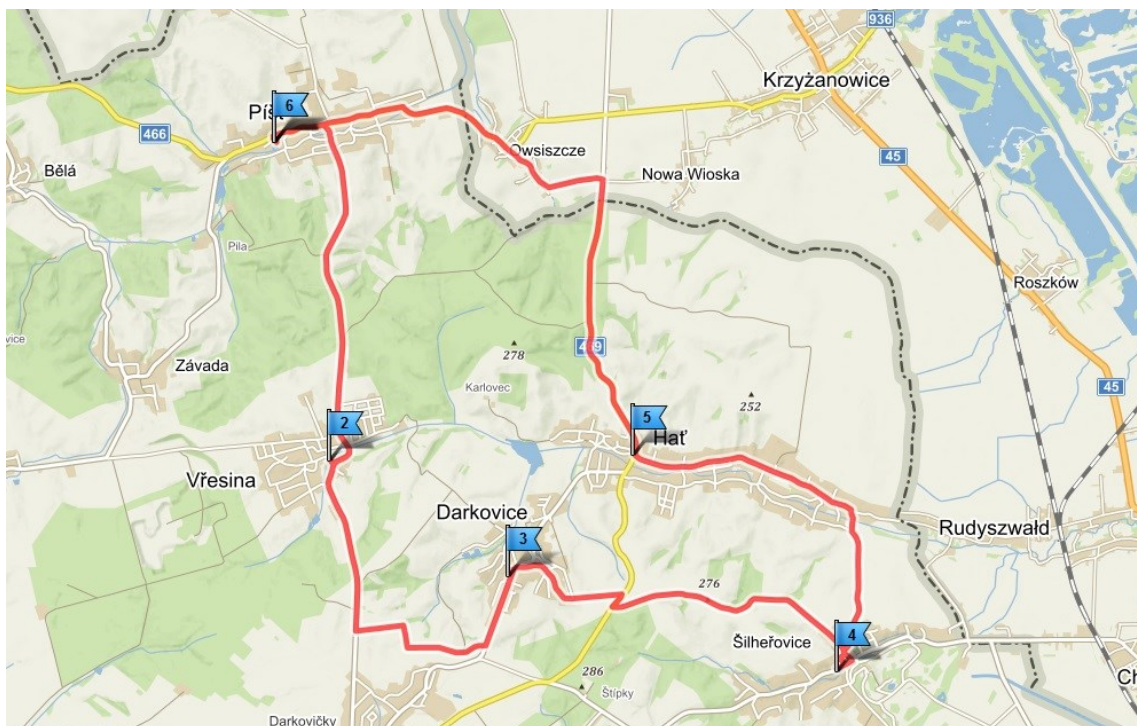
**6. Bolatice**                      **Kościół**                      **Współrzędne: N 49°57.14197', E 18°5.08967'**  
Pytanie:                      Kto jest patronem kościoła w miejscowości Bolatice?

.....

**7. Chuchelná**                      **Muzeum Chuchelná**                      **Współrzędne: N 49°59.22033', E 18°7.07468'**  
Pytanie:                      Jakiej tematyce jest poświęcone muzeum w miejscowości Chuchelná?

.....

## ARKUSZ DO TRASY NR 8



**Píšť → Vřesina → Darkovice → Šilheřovice → Hať → Píšť**

Długość trasy: 25,5 km

UCZESTNIK/-CZKA (Imię i nazwisko)

.....

KONTAKT (e-mail, nr telefonu, adres)

.....

**ODPOWIEDZ NA PYTANIA**

**ORAZ SFOTOGRAFUJ SIĘ W NIŻEJ PODANYCH MIEJSCACH!**

## Pytania konkursowe i miejsca na trasie nr 8

**1. Pišť**                      **Kościół św. Wawrzyńca**      **Współrzędne: N 49°58.70848', E 18°11.67993'**

Pytanie:                      W którym roku powstało w miejscowości Pišť miejsce pątnicze?

.....

**2. Vřesina**                      **Rezerwat przyrody Dařanec**      **Współrzędne: N 49°57.57813', E 18°11.94515'**

Pytanie:                      Jakie drzewo znajduje się na współrzędnych Rezerwatu przyrody Dařanec?

.....

**3. Darkovice**                      **Kąpielisko**                      **Współrzędne: N 49°56.23065', E 18°12.90238'**

Pytanie:                      Jaki rodzaj kąpieliska znajduje się w miejscowości Darkovice?

.....

**4. Šilheřovice**                      **Zamek**                              **Współrzędne: N 49°55.57285', E 18°16.48698'**

Pytanie:                      Jaką powierzchnię ma park zamkowy w miejscowości Šilheřovice?

.....

**5. Hať**                              **Kościół św. Mateusza**      **Współrzędne: N 49°56.88542', E 18°14.22428'**

Pytanie:                      Kiedy z reguły w miejscowości Hať odbywają się dożynki?

.....



## ARKUSZ DO TRASY NR 9



**Hlučín → Markvartovice → Ludgeřovice → Ostrava - Petřkovice → Ostrava - Lhotka →  
Ostrava - Hošťálkovic → Hlučín**

Długość trasy: 24,1 km

UCZESTNIK/-CZKA (Imię i nazwisko)

.....

KONTAKT (e-mail, nr telefonu, adres)

.....

**ODPOWIEDZ NA PYTANIA**

**ORAZ SFOTOGRAFUJ SIĘ W NIŻEJ PODANYCH MIEJSCACH!**

## Pytania konkursowe i miejsca na trasie nr 9

**1. Hlučín                      Zamek Hlučín                      Współrzędne: N 49°53.78492', E 18°11.13002'**

Pytanie:            Jaką nazwę nosi ekspozycja stała w Muzeum Hlučín poświęcona ziemi hulczyńskiej?

.....

**2. Markvartovice    Staw Latkáč                      Współrzędne: N49°54.53047', E 18°13.76718'**

Pytanie:            Z którego wieku pochodzi wzmianka o najstarszym stawie na ziemiach czeskich w miejscowości Markvartovice?

.....

**3. Ludgeřovice            Kościół św. Mikołaja            Współrzędne: N 49°53.46478', E 18°14.35768'**

Pytanie:            Kto jest autorem wystroju kościoła św. Mikołaja w miejscowości Ludgeřovice?

.....

**4. Ostrava - Petřkovic    Landek Park                      Współrzędne: N 49°52.10775', E 18°15.88475'**

Pytanie:            Ile ekspozycji jest przygotowanych dla odwiedzających Landek Park?

.....

**5. Ostrava - Lhotka            Kaplica św. Urbana            Współrzędne: N 49°51.41555', E 18°13.78573'**

Pytanie:            Jakich czasów sięga tradycja ustna odnosząca się do zwyczaju "Pogoń za królem w Lhotce?"

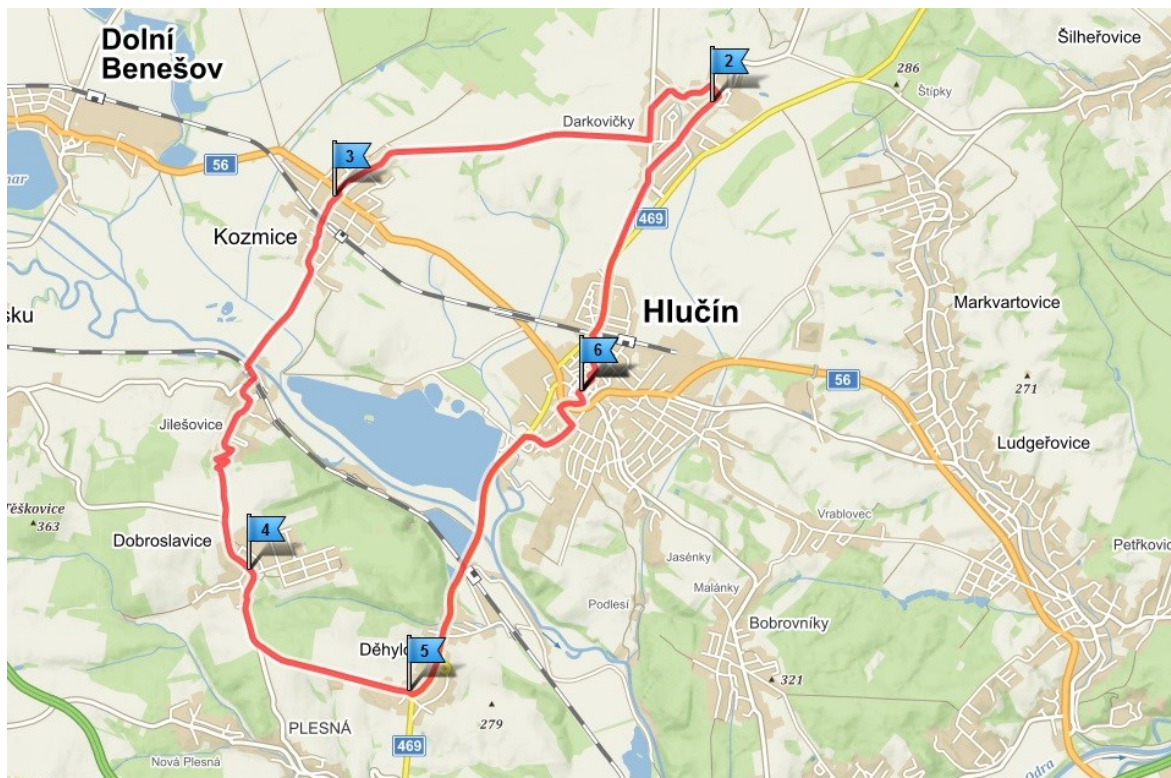
.....

**6. Ostrava - Hošťalkovice    Wieża widokowa                      Współrzędne: N 49°50.66657', E 18°12.67852'**

Pytanie:            Ile drabinek tworzy wieżę widokową w miejscowości Ostrava - Hošťalkovice

.....

## ARKUSZ DO TRASY NR 10



**Hlučín → Darkovičky → Kozmice → Dobroslavice → Děhylov → Hlučín**

Długość trasy: 19,5 km

UCZESTNIK/-CZKA (Imię i nazwisko)

.....

KONTAKT (e-mail, nr telefonu, adres)

.....

**ODPOWIEDZ NA PYTANIA**

**ORAZ SFOTOGRAFUJ SIĘ W NIŻEJ PODANYCH MIEJSCACH!**

## Pytania konkursowe i miejsca na trasie nr 10

**1. Hlučín**  
**18°11.15480'**

**Kościół św. Jana Chrzciciela**

**Współrzędne: N 49°53.75797', E**

Pytanie:

Z którego roku pochodzi pierwsza pisemna wzmianka o najstarszym kościele na ziemi hulczyńskiej?

.....

**2. Darkovičky**

**Bunkier Orel**

**Współrzędne: N49°55.65078', E 18°12.94497'**

Pytanie:

Wymień conajmniej 3 nazwy pozostałych bunkrów znajdujących się na terenie ziemi hulczyńskiej.

.....

**3. Kozmice**

**Kościół**

**Współrzędne: N 49°54.74062', E 18°9.28472'**

Pytanie:

Kto jest patronem kościoła w miejscowości Kozmice?

.....

**4. Dobroslavice**

**Ruiny mostu**

**Współrzędne: N 49°52.64000', E 18°8.64838'**

Pytanie:

W którym roku w miejscowości Dobroslavice wybudowano zamek i w którym roku się spalił?

.....

**5. Děhylov**

**Staw**

**Współrzędne: N 49°53.00378', E 18°10.27000'**

Pytanie:

Jak nazywa się staw znajdujący się na podanych współrzędnych?

.....